

DATALOGISK INSTITUT, AARHUS UNIVERSITET

Det Naturvidenskabelige Fakultet
EKSAMEN
Grundkurser i Datalogi
<b>Algoritmer og Datastrukturer 1 (2003-ordning)</b>
Antal sider i opgavesættet (incl. forsiden): 13 (tretten)
Eksamensdag: Torsdag den 23. marts 2006, kl. 9.00-11.00
Eksamenslokale: Trøjborg, Willemoesgade 15, Århus N, 8200 Århus N
Tilladte medbragte hjælpemidler: Alle sædvanlige hjælpemidler (lærebøger og notater)
Materiale der udleveres til eksaminanden:

Årskort \_\_\_\_\_

Navn \_\_\_\_\_

Skriftlig Eksamen  
Algoritmer og Datastrukturer 1 (2003-ordning)

Datalogisk Institut  
Aarhus Universitet

Torsdag den 23. marts 2006, kl. 9.00-11.00

Dette eksamenssæt består af en kombination af små skriftlige opgaver og multiple-choice-opgaver. Opgaverne besvares på opgaveformuleringen **som afleveres**.

For hver opgave er angivet opgavens andel af det samlede eksamenssæt.

For multiple-choice-opgaver gælder følgende. Hvert delspørgsmål har præcist et svar. For hvert delspørgsmål, kan du vælge ét svar ved at afkrydse den tilsvarende rubrik. Et multiple-choice-delspørgsmål bedømmes som følgende:

- Hvis du sætter kryds ved det rigtige svar, får du 1 point.
- Hvis du ikke sætter nogen krydser, får du 0 point.
- Hvis du sætter kryds ved et forkert svar, får du  $-\frac{1}{k-1}$  point, hvor  $k$  er antal svarmuligheder.

For en multiple-choice-opgave med vægt  $v\%$  og med  $n$  delspørgsmål, hvor du opnår samlet  $s$  point, beregnes din besvarelse af multiple-choice-opgaven som:

$$\max \left\{ 0, \frac{s}{n} \right\} \cdot v \%$$

**Opgave 1 (4%)**

	Ja	Nej
$3n^2$ er $O(7n)$ ?	<input type="checkbox"/>	<input type="checkbox"/>
$n^3$ er $O(3^n)$ ?	<input type="checkbox"/>	<input type="checkbox"/>
$n \cdot \log n$ er $O((\log n)^3)$ ?	<input type="checkbox"/>	<input type="checkbox"/>
$n \log n$ er $O(\sqrt{n})$ ?	<input type="checkbox"/>	<input type="checkbox"/>
$n^3 + n$ er $\Omega(n^2)$ ?	<input type="checkbox"/>	<input type="checkbox"/>

**Opgave 2 (4%)**

Opskriv følgende funktioner efter stigende orden med hensyn til  $O$ -notationen:

$$\begin{aligned} & n^4 \\ & n^3 \cdot (\log n)^3 \\ & 4^n / \log n \\ & 1/\sqrt{n} \\ & \sqrt{n} \cdot \log n \end{aligned}$$

Svar: \_\_\_\_\_

**Opgave 3 (4%)**

Angiv for hver af nedenstående algoritmer udførelstiden som funktion af  $n$  i  $O$ -notation.

**Algoritme Loop1( $n$ )**  
 $x \leftarrow 0$   
**for**  $i \leftarrow 1$  **to**  $n$  **do**  
    **for**  $j \leftarrow i$  **to**  $n$  **do**  
        **for**  $k \leftarrow i$  **to**  $j$  **do**  
             $x \leftarrow x + 1$

**Algoritme Loop2( $n$ )**  
**for**  $i \leftarrow 1$  **to**  $n$  **do**  
     $j \leftarrow 1$   
    **while**  $j \leq n$  **do**  
         $j \leftarrow j * 2$

**Algoritme Loop3( $n$ )**  
 $i \leftarrow 1$   
 $j \leftarrow n$   
**while**  $j \geq 0$  **do**  
     $j \leftarrow j - i$   
     $i \leftarrow i + 1$

Svar Loop1: \_\_\_\_\_

Svar Loop2: \_\_\_\_\_

Svar Loop3: \_\_\_\_\_

**Opgave 4 (4%)**

Angiv for hver af nedenstående algoritmer udførelstiden som funktion af  $n$  i  $O$ -notation.

**Algoritme Loop1( $n$ )**

```
 $x \leftarrow 0$   
 $j \leftarrow 0$   
for  $i \leftarrow 1$  to  $n$  do  
   $j \leftarrow j + i$   
  for  $k \leftarrow 1$  to  $j$  do  
     $x \leftarrow x + 1$ 
```

**Algoritme Loop2( $n$ )**

```
 $i \leftarrow n$   
 $x \leftarrow 0$   
while  $i \geq 1$  do  
  for  $j \leftarrow 1$  to  $i$  do  
     $x \leftarrow x + 1$   
   $i \leftarrow \lfloor i/2 \rfloor$ 
```

**Algoritme Loop3( $n$ )**

```
 $i \leftarrow 1$   
while  $i \leq n$  do  
   $j \leftarrow 1$   
  while  $j \leq n$  do  
     $j \leftarrow j * 2$   
   $i \leftarrow i * 2$ 
```

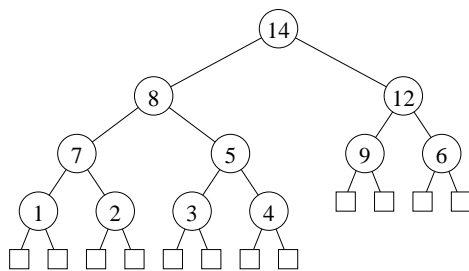
Svar Loop1: \_\_\_\_\_

Svar Loop2: \_\_\_\_\_

Svar Loop3: \_\_\_\_\_

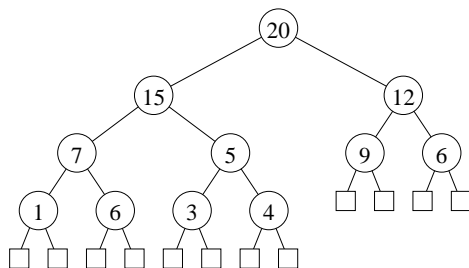
**Opgave 5 (4%)**

Tegn hvordan nedenstående binære max-heap ser ud efter indsættelse af elementet 13.



Svar: \_\_\_\_\_

Tegn hvordan nedenstående binære max-heap ser ud efter en heap-extract-max operation.



Svar: \_\_\_\_\_

**Opgave 6 (4%)**

Tegn den binære max-heap efter indsættelse af elementerne 8, 5, 2, 6, 4, 10, 9, 7 i den givne rækkefølge, startende med den tomme heap.

Svar: \_\_\_\_\_

**Opgave 7 (4%)**

Angiv hvordan nedenstående array ser ud efter anvendelsen af build-max-heap for arrayet.

1	2	3	4	5	6	7	8	9	10	11	12	13	14	15	16	17
5	2	16	13	8	6	19	15	3	7	9	20	4	12	11	1	10

Svar: \_\_\_\_\_

**Opgave 8 (4%)**

Angiv for hver af nedenstående sorterings-algoritmer deres best-case og worst-case udførelsestid for at sortere  $n$  elementer.

Algoritme	Worst-case	Best-case
InsertionSort	_____	_____
MergeSort	_____	_____
HeapSort	_____	_____
QuickSort	_____	_____

**Opgave 9 (4%)**

Hvad er udførelstiden for insertion-sort på følgende sekvenser, hvor det antages at  $n$  er lige.

- a)  $1, 2, 3, 4, \dots, n - 1, n$
- b)  $n, n - 1, \dots, 4, 3, 2, 1$
- c)  $2, 1, 4, 3, 6, 5, \dots, n, n - 1$

Svar a): \_\_\_\_\_

Svar b): \_\_\_\_\_

Svar c): \_\_\_\_\_

**Opgave 10 (4%)**

Betragt radix-sort anvendt på nedenstående liste af tal ( $d = 5, k = 10$ ). Angiv den delvist sorterede liste efter at radix-sort har sorteret tallene efter de tre mindst betydende cifre.

43118 73144 89123 22118 38144 56743

Svar: \_\_\_\_\_

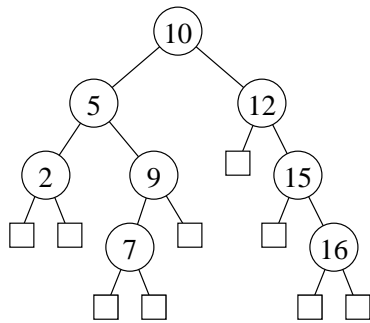
**Opgave 11 (4%)**

Angiv en sekvens af  $n$  insert operationer i et ubalanceret søgetræ som tager tid  $\Theta(n^2)$ , når man starter med et tomt søgetræ. Angiv både sekvensen og det resulterende søgetræ.

Svar sekvens: \_\_\_\_\_ Svar træ: \_\_\_\_\_

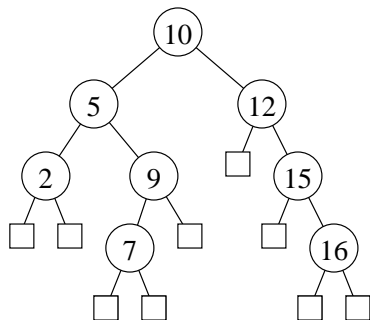
**Opgave 12 (4%)**

Tegn hvordan nedenstående ubalancerede binære søgetræ ser ud efter indsættelse af elementet 8.



Svar: \_\_\_\_\_

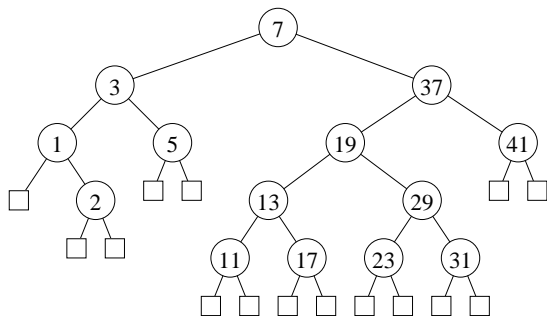
Tegn hvordan nedenstående ubalancerede binære søgetræ ser ud efter slettelse af elementet 12.



Svar: \_\_\_\_\_

**Opgave 13 (4%)**

Angiv hvorledes knuderne i nedenstående binære søgetræ kan farves røde og sorte, således at det resulterende træ er et lovligt rød-sort træ.

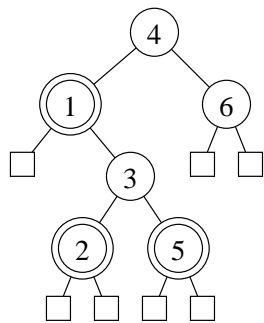


Svar: \_\_\_\_\_

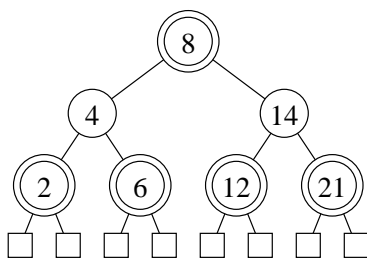
(Opgavesættet fortsætter)

**Opgave 14 (4%)**

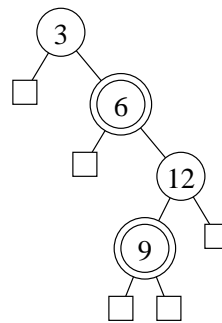
Angiv for hvert af nedenstående træer om det er lovligt søgetræ, et lovligt rød-sort søgetræ, eller ingen af delene (dobbeltcirkler angiver røde knuder).



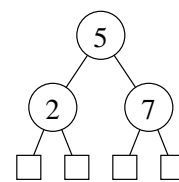
a)



b)



c)

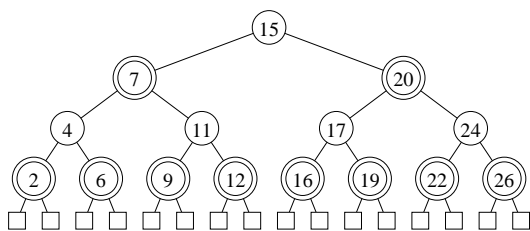


d)

	Rød-sort søgetræ	Søgetræ, men ikke rød-sort	Ikke et søgetræ
a)	<input type="checkbox"/>	<input type="checkbox"/>	<input type="checkbox"/>
b)	<input type="checkbox"/>	<input type="checkbox"/>	<input type="checkbox"/>
c)	<input type="checkbox"/>	<input type="checkbox"/>	<input type="checkbox"/>
d)	<input type="checkbox"/>	<input type="checkbox"/>	<input type="checkbox"/>

**Opgave 15 (4%)**

Tegn hvordan nedenstående rød-sort træ (dobbeltcirkler angiver røde knuder) ser ud efter indsættelse af elementet 10.



Svar: \_\_\_\_\_



**Opgave 16 (4%)**

Tegn en hashtabel hvor der anvendes kædede lister til at håndtere kollisioner, når hash-funktionen er  $h(k) = k * 3 \text{ mod } 7$  og der indsættes elementerne 3, 8, 2, 9, 1, 10, og 15 i den givne rækkefølge.

Svar: \_\_\_\_\_

**Opgave 17 (4%)**

Nedenstående er en hashtabel hvor der er anvendt *linear probing*. Den anvendte hash-funktion er  $h(k) = 2 \cdot k \text{ mod } 17$ . Tegn hvordan hashtabellen ser ud efter at elementer 12, 2, 19, 11, 5 er indsat i den givne rækkefølge.

0	1	2	3	4	5	6	7	8	9	10	11	12	13	14	15	16
	9					3	20					6				

Svar: \_\_\_\_\_

**Opgave 18 (4%)**

Nedenstående er en hashtabel hvor der er anvendt *quadratic probing*. Den anvendte hashfunktion er

$$h(k, i) = h'(k) + i + 3 \cdot i^2 \text{ mod } 11$$

hvor  $h'(k) = k \text{ mod } 11$ .

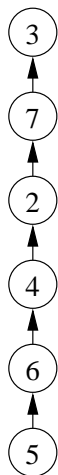
Tegn hvordan hashtabellen ser ud efter at  $k = 4$  og  $k = 14$  indsættes i den givne rækkefølge.

0	1	2	3	4	5	6	7	8	9	10
			3			25	36			

Svar: \_\_\_\_\_

**Opgave 19 (4%)**

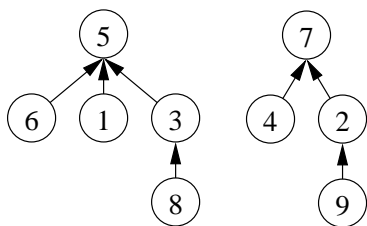
Tegn hvordan nedenstående union-find datastruktur ser ud efter  $\text{FIND}(4)$ , når der anvendes stikomprimering.



Svar: \_\_\_\_\_

**Opgave 20 (4%)**

Tegn hvordan nedenstående union-find datastruktur ser ud efter  $\text{UNION}(8,4)$  efterfulgt af  $\text{FIND}(9)$ , når der anvendes både union-by-size og stikomprimering.



Svar: \_\_\_\_\_

**Transitionssystem Up-and-Down**  
Configurations:  $\{[i, j] \mid i, j \geq 0\}$   
 $[i, j] \triangleright [i, j + i] \quad \text{if } j + i \leq 100$   
 $[i, j] \triangleright [i + 1, j - 1] \quad \text{if } j > 0$

**Opgave 21 (4%)**

For hver af nedenstående udsagn, angiv om de er en invariant for ovenstående transitionssystem Up-and-Down. Startkonfigurationen antages at være  $[1, 0]$ .

	Ja	Nej
$i \geq 1$	<input type="checkbox"/>	<input type="checkbox"/>
$j \leq i$	<input type="checkbox"/>	<input type="checkbox"/>
$0 \leq j \leq 100$	<input type="checkbox"/>	<input type="checkbox"/>
$j + i \leq 200$	<input type="checkbox"/>	<input type="checkbox"/>
$i \leq 200$	<input type="checkbox"/>	<input type="checkbox"/>

**Opgave 22 (4%)**

For hver af nedenstående funktioner, angiv om de er en termineringsfunktion for ovenstående transitionssystem Up-and-Down.

	Ja	Nej
$\mu(i, j) = i - j$	<input type="checkbox"/>	<input type="checkbox"/>
$\mu(i, j) = j$	<input type="checkbox"/>	<input type="checkbox"/>
$\mu(i, j) = i + j$	<input type="checkbox"/>	<input type="checkbox"/>
$\mu(i, j) = -2i - j$	<input type="checkbox"/>	<input type="checkbox"/>
$\mu(i, j) = 500 - 2i - j$	<input type="checkbox"/>	<input type="checkbox"/>

**Algoritme** Loop( $n$ )  
Inputbetingelse : heltal  $n \geq 4$   
Outputkrav : –  
Metode :  $i \leftarrow 4$ ;  
 $j \leftarrow 1$ ;  
{ $I$ } **while**  $i < n$  **do**  
 $i \leftarrow i * i$ ;  
 $j \leftarrow j + 1$

**Opgave 23 (4 %)**

For hver af nedenstående udsagn, angiv om de er en invariant  $I$  for ovenstående algoritme Loop.

	Ja	Nej
$4 \leq i \leq n$	<input type="checkbox"/>	<input type="checkbox"/>
$j \leq n$	<input type="checkbox"/>	<input type="checkbox"/>
$0 \leq j \leq i$	<input type="checkbox"/>	<input type="checkbox"/>
$i = 2^j$	<input type="checkbox"/>	<input type="checkbox"/>
$i = 2^{2^j}$	<input type="checkbox"/>	<input type="checkbox"/>

**Opgave 24 (4 %)**

For hver af nedenstående funktioner, angiv om de er en termineringsfunktion for ovenstående algoritme Loop.

	Ja	Nej
$\mu(i, j, n) = i + j$	<input type="checkbox"/>	<input type="checkbox"/>
$\mu(i, j, n) = n - i$	<input type="checkbox"/>	<input type="checkbox"/>
$\mu(i, j, n) = n - j$	<input type="checkbox"/>	<input type="checkbox"/>
$\mu(i, j, n) = j - i$	<input type="checkbox"/>	<input type="checkbox"/>
$\mu(i, j, n) = n - \sqrt{i}$	<input type="checkbox"/>	<input type="checkbox"/>

**Opgave 25 (4%)**

Nedenstående algoritme beregner  $r = n^2$ . For at vise gyldigheden af algoritmen skal  $I_n$ ,  $I_i$  og  $I_s$  være invarianter omkring variablene  $n$ ,  $i$  og  $s$ . Angiv invarianter hvormed gyldigheden af algoritmen kan bevises (bevis for invarianterne kræves ikke).

```
Algoritme Kvadrat( $n$ )  
Inputbetingelse : heltal  $n \geq 1$   
Outputkrav      :  $r = n^2$   
Metode          :  $s = 1$ ;  
                  $i = 1$ ;  
                  $\{I_n \wedge I_i \wedge I_s\}$  while  $i < n$  do  
                                      $i \leftarrow i + 1$ ;  
                                      $s \leftarrow s + i$ ;  
  
                  $r = 2 * s - i$ 
```

Svar  $I_n$ : \_\_\_\_\_

Svar  $I_i$ : \_\_\_\_\_

Svar  $I_s$ : \_\_\_\_\_

For at kunne bevise at algoritmen terminerer, kræves en passende termineringsfunktion. Angiv en termineringsfunktion (bevis for at termineringsfunktionen har de nødvendige egenskaber kræves ikke).

Svar  $\mu$ : \_\_\_\_\_